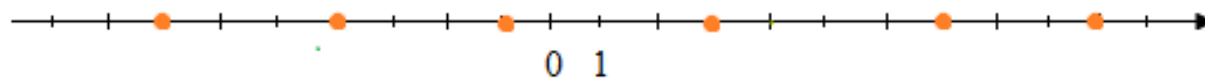


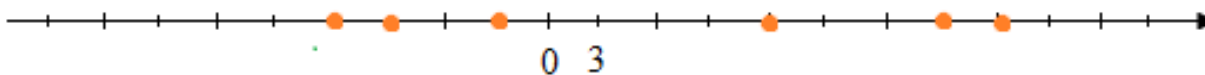
Zadanie 1.

Odczytaj współrzędne zaznaczonych punktów:

a)



b)



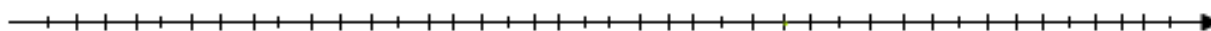
c)



Zadanie 2.

Dobierz odpowiedni odcinek jednostkowy i zaznacz na osi liczbowej liczby:

$$\frac{1}{8}; -\frac{6}{8}; 1\frac{4}{8}; -2\frac{3}{8}; 2\frac{5}{8}$$



Zadanie 3.

Zaznacz na osi liczbowej punkty o danych współrzędnych i odczytaj hasło:

$$\mathbf{O} = -1\frac{1}{2}$$

$$\mathbf{R} = 1\frac{1}{4}$$

$$\mathbf{B} = 0,75$$

$$\mathbf{D} = -2,5$$

$$\mathbf{Z} = 1,5$$

$$\mathbf{E} = 3$$

